



CARTABLE
FANTASTIQUE

CYCLE 2 – LES NOMBRES

Comparer, ranger et ordonner
de 1 à 9999

Le cahier d'exercices pour la classe

Table des matières

| | |
|---|----|
| Comparer, ranger et ordonner de 1 à 5 | 1 |
| Comparer, ranger et ordonner de 6 à 9 | 8 |
| Comparer, ranger et ordonner jusqu'à 10..... | 13 |
| Comparer, ranger et ordonner de 11 à 19 | 18 |
| Comparer, ranger et ordonner de 20 à 29 | 23 |
| Comparer, ranger et ordonner de 30 à 39 | 28 |
| Comparer, ranger et ordonner de 40 à 49 | 33 |
| Comparer, ranger et ordonner de 50 à 59 | 38 |
| J'ai tout compris ! Comparer, ranger et ordonner de 30 à 59 | 43 |
| Comparer, ranger et ordonner de 60 à 69 | 47 |
| Comparer, ranger et ordonner de 70 à 79 | 52 |
| Comparer, ranger et ordonner de 80 à 89 | 57 |
| Comparer, ranger et ordonner de 90 à 99 | 62 |
| Comparer, ranger et ordonner : On révise de 1 à 99..... | 66 |
| Comparer, ranger et ordonner jusqu'à 199..... | 72 |
| Comparer, ranger et ordonner jusqu'à 599..... | 79 |
| Comparer, ranger et ordonner jusqu'à 999 | 87 |
| Comparer, ranger et ordonner de 1000 à 9999 | 94 |
| Comparer, ranger et ordonner de 1 à 9 999 | 99 |

Comparer, ranger et ordonner de 1 à 5



1 Entoure **le plus petit nombre en rouge** et **le plus grand nombre en vert**.

1 2 3 4 5

2 Colorie **le plus petit** des deux nombres.

•

| |
|---|
| 3 |
|---|

| |
|---|
| 1 |
|---|

•

| |
|---|
| 4 |
|---|

| |
|---|
| 2 |
|---|

•

| |
|---|
| 2 |
|---|

| |
|---|
| 5 |
|---|

•

| |
|---|
| 1 |
|---|

| |
|---|
| 4 |
|---|

3 Colorie **le plus grand** des deux nombres.

•

| |
|---|
| 4 |
|---|

| |
|---|
| 3 |
|---|

•

| |
|---|
| 3 |
|---|

| |
|---|
| 5 |
|---|

•

| |
|---|
| 1 |
|---|

| |
|---|
| 2 |
|---|

•

| |
|---|
| 4 |
|---|


| |
|---|
| 5 |
|---|

4 Qui a le plus de pommes ? Julie ou Léo ? Entoure le prénom.

Julie



Léo





5 Relie les nombres du **plus petit** au **plus grand**.

4

3

1

5

2

6 Entoure les nombres.

Plus petit que 3 :

2 5 4 1

Plus grands que 2 :

5 1 3 4

Plus grands que 3 :






4 2 1 5

Plus petits que 2 :

3 1 5 4





7 Relie les dés du plus petit au plus grand.




8 Y-a-t-il plus de fleurs ou de voitures ? Entoure la bonne réponse.



 Il y a plus de voitures

 Il y a plus de fleurs



 Il y a plus de voitures

 Il y a plus de fleurs



9 Colorie le **plus petit** des trois nombres.

•

| |
|---|
| 5 |
|---|

| |
|---|
| 4 |
|---|

| |
|---|
| 3 |
|---|

•

| |
|---|
| 2 |
|---|

| |
|---|
| 1 |
|---|

| |
|---|
| 3 |
|---|

10 Colorie le **plus grand** des trois nombres.

•

| |
|---|
| 2 |
|---|

| |
|---|
| 3 |
|---|

| |
|---|
| 1 |
|---|


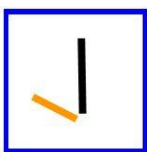
•

| |
|---|
| 3 |
|---|

| |
|---|
| 5 |
|---|

| |
|---|
| 4 |
|---|

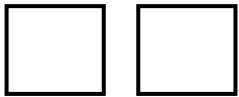
11 Relie les cartons du **plus petit** au **plus grand**.



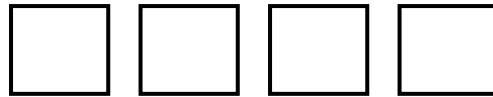


12 Qui a le plus de carrés ? Julie ou Léo ? Entoure le prénom.

Julie



Léo






Julie



Léo

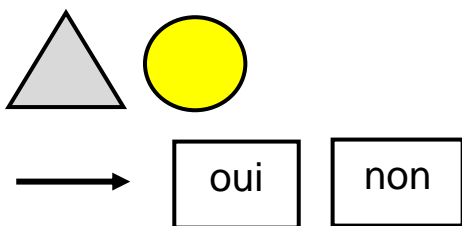
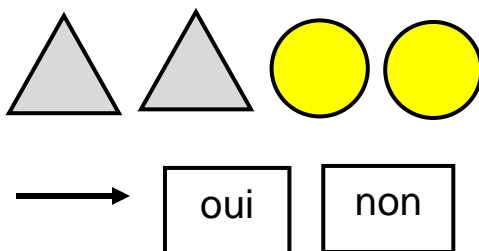
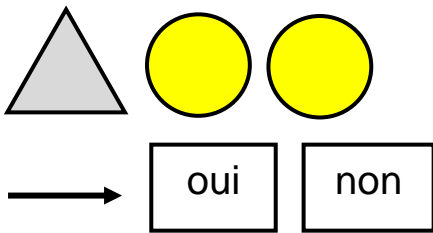


13 Compte les ronds. Puis colorie autant de carrés que de ronds.





14 Y-a-t-il autant de ronds que de triangles ? Colorie ta réponse.



15 Compte les fleurs de Julie et les fleurs de Léo. Puis réponds à la question.

Julie



Julie a fleurs.

Léo



Léo a fleurs.

Julie et Léo ont le même nombre de fleurs ?

☐ oui

☐ non

Comparer, ranger et ordonner de 6 à 9



1 Entoure le plus petit nombre en rouge et le plus grand nombre en vert.

6 7 8 9

2 Colorie le plus petit des deux nombres.

• 7 9

• 9 6

• 8 6

• 7 8

3 Colorie le plus grand des deux nombres.



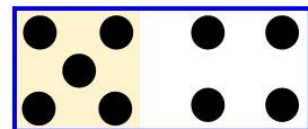

• 6 7

• 9 7

• 8 6

• 8 9

4 Relie les cartons du plus petit au plus grand.











5 Entoure les nombres.

Plus petits que 8 : 9 7 6 7 9 6

Plus grands que 7 : 9 6 8 6 9 8

6 Entoure en rouge le carton qui a le plus petit nombre et en vert le carton qui a le plus grand nombre.



7 Relie les nombres du **plus petit** au **plus grand** en commençant par 5.

6

9

8

5

7



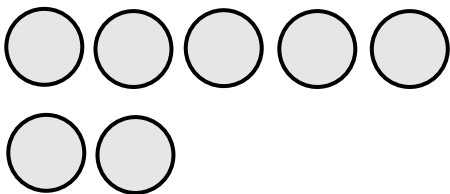
8 Colorie **le plus petit** des trois nombres.

| | | | | | | |
|---|---|---|--|---|---|---|
| 6 | 9 | 8 | | 9 | 7 | 8 |
|---|---|---|--|---|---|---|

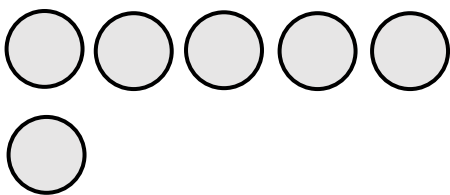
9 Colorie **le plus grand** des trois nombres.

| | | | | | | |
|---|---|---|--|---|---|---|
| 8 | 7 | 9 | | 7 | 6 | 8 |
|---|---|---|--|---|---|---|

10 Compte les ronds. Puis colorie autant de carrés que de ronds.

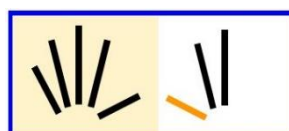
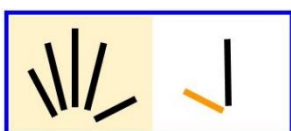
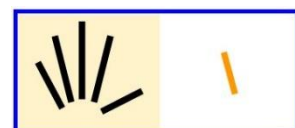
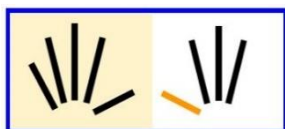


| | | | | |
|--|--|--|--|--|
| | | | | |
| | | | | |



| | | | | |
|--|--|--|--|--|
| | | | | |
| | | | | |

11 Relie les cartons du plus grand au plus petit.





12 Compte les pommes de Julie et les pommes de Léo. Puis réponds à la question.

Julie       

Julie a pommes.

Léo       

Léo a pommes.

Léo a-t-il autant de pommes que Julie ?

☐ oui

☐ non

Julie      

Julie a pommes.

Léo     

Léo a pommes.

Léo a autant de pommes que Julie ?

☐ oui

☐ non

**Comparer, ranger et ordonner
jusqu'à 10**



1 Entoure **le plus petit nombre en rouge** et **le plus grand nombre en vert**.

1 2 3 4 5 6 7 8 9 10

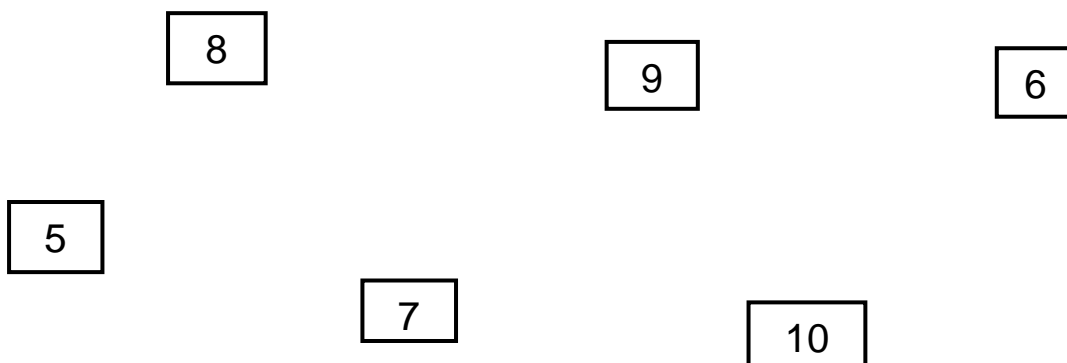
2 Colorie **le plus petit** des trois nombres.

- | | | |
|---|---|----|
| 7 | 3 | 10 |
|---|---|----|
- | | | |
|---|---|---|
| 4 | 6 | 1 |
|---|---|---|
- | | | |
|---|----|---|
| 9 | 10 | 6 |
|---|----|---|

3 Colorie **le plus grand** des deux nombres.

- | | | |
|----|---|---|
| 10 | 5 | 2 |
|----|---|---|
- | | | |
|---|---|---|
| 9 | 8 | 4 |
|---|---|---|
- | | | |
|---|---|----|
| 7 | 9 | 10 |
|---|---|----|

4 Relie les nombres du plus petit au plus grand.





5 Entoure les nombres.

Plus petits que 6 :

7 9 1 10 3 4

Plus grands que 7 :

9 2 5 10 8 3






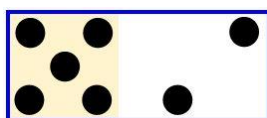
Plus petits que 4 :

10 8 2 9 3 1

Plus grands que 5 :

4 9 2 1 7 10

6 Entoure en rouge le carton qui a **le plus petit nombre** et en vert le carton qui a **le plus grand nombre**.





7 Range les nombres du plus petit au plus grand.

• 8 2 1 4 10


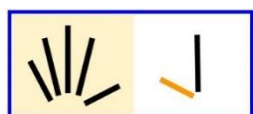
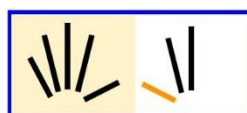
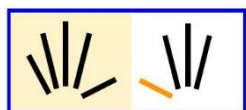
• 7 5 10 9 3

8 Range les nombres du plus grand au plus petit.

• 1 10 4 3 6

• 9 2 8 10 5

9 Relie les cartons du plus grand au plus petit.



10 Écris un nombre.

Plus grand que :

2 :

8 :

10 :

3 :

6 :

9 :

Plus petit que :



11 Entoure le prénom pour répondre à la question.

Qui a le plus de billes ?

Julie a 3 billes. Manon a 5 billes.

Qui a le moins de billes ?

Ali a 10 billes. Nadia a 8 billes.

Qui a le moins de pièces ?

Marie a 6 pièces. Simon a 9 pièces.

Qui a le plus de pièces ?

Julie a 7 pièces. Manon a 10 pièces.

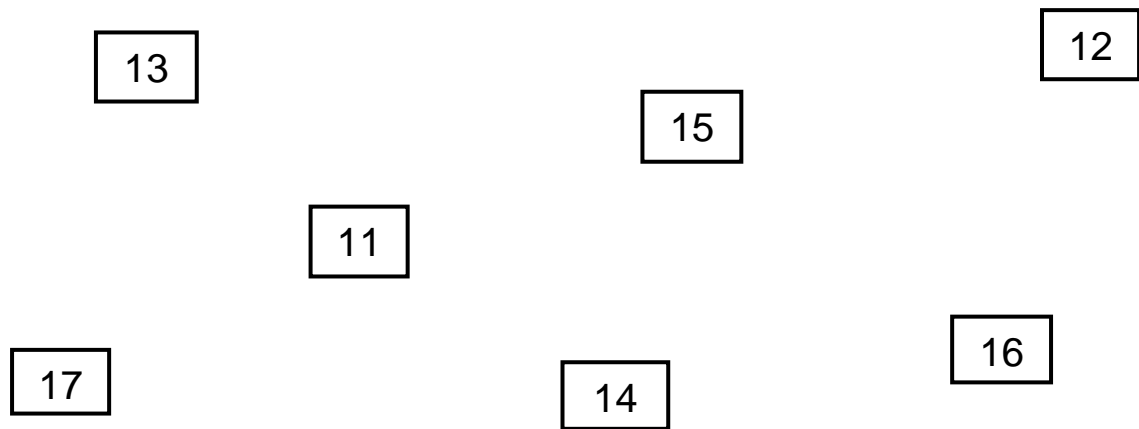
Comparer, ranger et ordonner de 11 à 19



1 Entoure **le plus petit nombre en rouge** et **le plus grand nombre en vert**.

11 12 13 14 15 16 17 18 19

2 Relie les nombres du plus petit au plus grand.



3 Entoure **le plus petit** des trois nombres.

15 19 13

12 16 18

19 11 14

4 Entoure **le plus grand** des trois nombres.

16 11 19

15 17 13

14 12 18



5 Recopie et complète avec **plus petit** ou **plus grand**.

13 est que 17.

16 est que 11.

19 est que 14.

12 est que 15.

6 Que signifie le signe ? Complète avec plus petit ou plus grand.

$15 > 14$

15 est que 14.

$17 > 12$

17 est que 12.

$16 < 19$

16 est que 19.

$11 < 13$

11 est que 13.

7 Écris les nombres du plus petit au plus grand.

14 et 11 <

16 et 13 <

15 et 19 <

18 et 17 <



8 Écris les nombres du plus grand au plus petit.

12 et 15 >

17 et 16 >

18 et 11 >

13 et 14 >

9 Relie les nombres du plus grand au plus petit.

19

16

15

14

13

11

12

17

18

10 Entoure le prénom pour répondre à la question.

Qui a le plus de bonbons ?

Jules a 11 bonbons. Manon a 16 bonbons.

Qui a le plus de billes ?

Sami a 17 billes. Marie a 15 billes.

Qui a le moins de pièces ?

Nadia a 14 pièces. Simon a 12 pièces.

Qui a le moins de bonbons ?

Ali a 11 bonbons. Julie a 10 bonbons.



11 Range du plus petit au plus grand.

14 11 17 < <

19 15 12 < <

12 Range du plus grand au plus petit.

12 17 19 13
 > > >

14 11 18 15
 > > >

13 Recopie et complète avec le signe < ou >.

- | | |
|---------------|---------------|
| • 12 15 | • 18 14 |
| • 16 13 | • 11 12 |
| • 17 19 | • 19 18 |

14 Écris un nombre qui convient.

- | | |
|--------------|--------------|
| • 13 < | • 14 > |
| • 12 > | • 18 < |
| • 15 > | • 16 < |

Comparer, ranger et ordonner de 20 à 29





5 Recopie et complète avec **plus petit** ou **plus grand**.

25 est que 22.

27 est que 29.

20 est que 24.

26 est que 23.

6 Complète avec **plus petit** ou **plus grand** puis avec **<** ou **>**.

27 est que 23.

27 23

28 est que 29.

28 29

22 est que 26.

22 26

7 Entoure les nombres.

Plus grands que 27 :

20 26 29 23 28 25

Plus petits que 24 :

21 25 27 28 22 20



8 Écris un nombre qui convient.

• $23 > \dots\dots$

• $20 < \dots\dots$

• $26 > \dots\dots$

• $24 < \dots\dots$

• $29 > \dots\dots$

• $28 < \dots\dots$

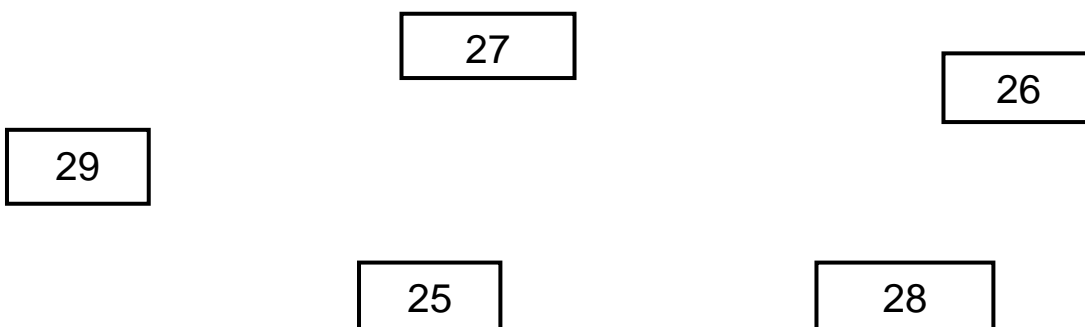
9 Range du plus petit au plus grand.

21 27 25 $\square < \square < \square$

26 22 23 $\square < \square < \square$

27 29 24 $\square < \square < \square$

10 Relie les nombres du plus grand au plus petit.





11 Range du plus grand au plus petit.

29 22 26 > >

21 24 27 > >

25 20 23 > >

12 Complète avec le signe < ou >.

- 21 23
- 24 28
- 28 29
- 22 27
- 26 24
- 29 26

13 Problèmes.

Marie a 21 jouets. Léo a 24 jouets. Qui a le moins de jouets ?

C'est _____ qui a le moins de jouets. <

Quel paquet a le plus de biscuits ? Le paquet vert ou le paquet orange ?

25

23

C'est le paquet _____ qui a le plus de biscuits. >



Comparer, ranger et ordonner de 30 à 39



1 Entoure **le plus petit** des deux nombres.

37 33

31 38

32 35

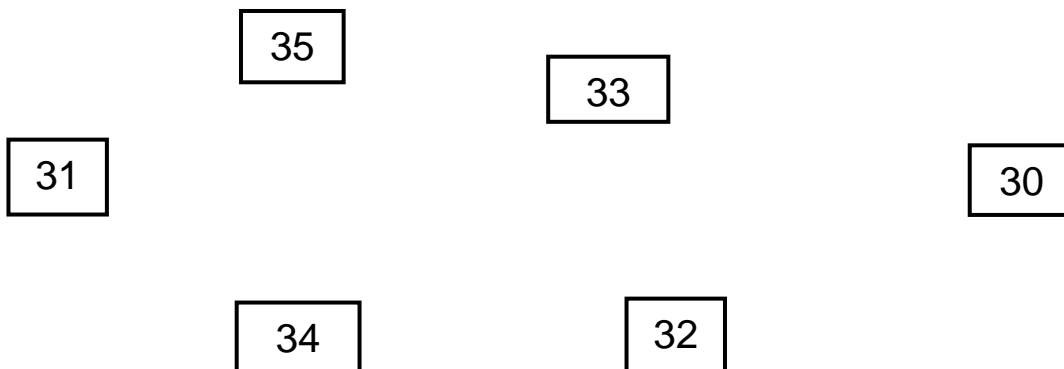
2 Entoure **le plus grand** des deux nombres.

30 34

38 36

33 39

3 Relie les nombres du plus petit au plus grand.



4 Entoure les nombres : **le plus petit en rouge** et **le plus grand en vert**.

• 32 38 30

• 35 31 39

• 32 34 38

• 37 33 36

5 Recopie et complète avec **plus petit** ou **plus grand**.

33 est que 35.

39 est que 38.

36 est que 32.

34 est que 37.



6 Complète avec **plus petit** ou **plus grand** puis avec $<$ ou $>$.

31 est que 30.

31 30

36 est que 38.

36 38

34 est que 32.

34 32

7 Range du plus petit au plus grand.

34 31 38 $<$ $<$

35 39 30 $<$ $<$

36 32 33 $<$ $<$

8 Relie les nombres du plus grand au plus petit.



9 Entoure les nombres.

Plus grands que 36 :

31 34 38 35 30 39 37

Plus petits que 35 :

33 32 37 39 31 30 34

10 Range du plus grand au plus petit.

34 39 30

> >

35 38 31

> >

37 32 33

> >

11 Complète avec le signe < ou >.

- 37 35

- 32 34

- 31 30

- 30 33



• 38 37

• 39 36

12 Écris un nombre qui convient.

• 39 >

• 31 <

• 34 >

• 35 <

• 37 >

• 36 <

13 Résoudre des problèmes.

Manon a 39 € dans sa tirelire. Nadia a 35 €. Qui a le plus d'argent ?

C'est qui a le plus d'argent. >

Ali a 31 € dans sa tirelire. Marie a 34 €. Qui a le moins d'argent ?

C'est qui a le plus d'argent. <

Nathan et Jade sont des géants. Le pied de Nathan mesure 38 cm. Celui de Jade mesure 32 cm. Qui a le plus grand pied ?

C'est qui a le plus grand pied. >

Entoure la pomme la plus chère.



La pomme verte coûte 36 €.

La pomme rouge coûte 33 €

..... >



Comparer, ranger et ordonner de 40 à 49

LES NOMBRES

Comparer, ranger et ordonner de 40 à 49



1 Entoure **le plus petit** des deux nombres.

44 40

47 42

46 49

2 Entoure **le plus grand** des deux nombres.

48 45

41 43

47 48

3 Entoure les nombres : **le plus petit en rouge** et **le plus grand en vert**.

• 49 43 46

• 40 45 47

• 48 44 41

• 46 42 49

4 Relie les nombres du plus petit au plus grand.

45

44

41

43

42

40



5 Recopie et complète avec **plus petit** ou **plus grand**.

46 est que 41.

47 est que 45.

44 est que 48.

42 est que 43.

6 Complète avec **plus petit** ou **plus grand** puis avec **<** ou **>**.

45 est que 47.

45 47

40 est que 42.

40 42

48 est que 49.

48 49

7 Recopie et complète avec le signe **<** ou **>**.

• 43 41

• 48 46

• 40 44

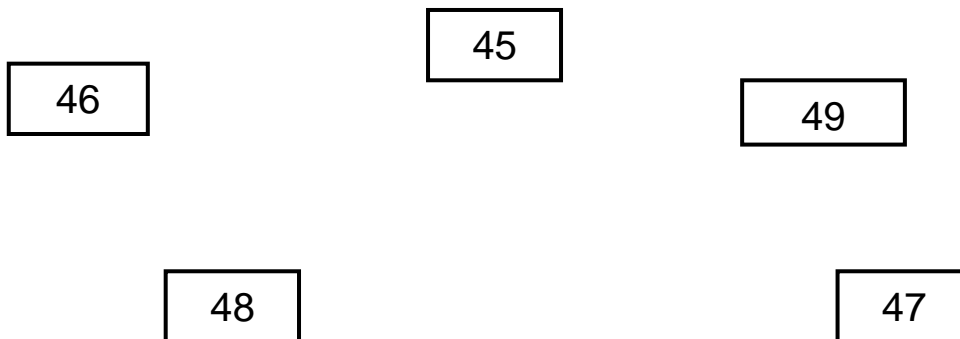
• 43 46

• 45 49

• 42 48



8 Relie les nombres du plus grand au plus petit.



9 Entoure les nombres.

Plus grands que 45 :

49 42 47 40 48 44

Plus petits que 44 :

46 40 43 45 41 48

10 Range du plus petit au plus grand.

42 46 40 < <

49 47 48 < <

45 44 41 < <



11 Écris un nombre qui convient.

- 45 >
- 43 >
- 46 >
- 48 <
- 44 <
- 40 <

12 Range du plus grand au plus petit.

48 42 44 > >

43 47 40 > >

49 41 44 > >

13 Résoudre des problèmes.

Simon a 45 jouets. Manon a 40 jouets. Qui a le plus de jouets ?

..... > C'est qui a le plus de jouets.

Marie a 48 jouets. Sami a 43 jouets. Qui a le moins de jouets ?

..... < C'est qui a le moins de jouets.

Ali a 42 crayons. Jules a 44 crayons. Qui a le moins de crayons ?

..... < C'est qui a le plus de crayons.

Tonton a 41 ans. Tata a 43 ans. Qui est le plus vieux ?

..... > C'est qui est le plus vieux.



Comparer, ranger et ordonner de 50 à 59



1 Entoure **le plus petit** des deux nombres.

57 55

50 53

59 56

2 Entoure **le plus grand** des deux nombres.

51 58

54 52

56 57

3 Entoure les nombres : **le plus petit en rouge** et **le plus grand en vert**.

• 50 57 54

• 55 53 59

• 58 56 51

• 52 56 50

4 Recopie et complète avec **plus petit** ou **plus grand**.

51 est que 53.

57 est que 59.

56 est que 52.

58 est que 55.

5 Relie les nombres du plus petit au plus grand.

54

52

56

55

53

57



6 Entoure les nombres.

Plus grands que 57 :

51 58 55 56 54 59 53

Plus petits que 53 :

52 54 57 55 53 58 51

7 Complète avec **plus petit** ou **plus grand** puis avec < ou >.

53 est que 55.

53 55

57 est que 56.

57 56

51 est que 50.

51 50

8 Recopie et complète avec le signe < ou >.

• 58 54

• 55 50

• 51 55

• 50 54

• 57 56

• 59 53



9 Range du plus grand au plus petit.

51 57 54 > >

58 59 56 > >

52 55 50 > >

10 Relie les nombres du plus grand au plus petit.

| | | |
|---------------------------------|---------------------------------|---------------------------------|
| | <input type="text" value="59"/> | <input type="text" value="58"/> |
| <input type="text" value="56"/> | | |
| | | <input type="text" value="55"/> |
| <input type="text" value="57"/> | <input type="text" value="54"/> | |

11 Écris un nombre qui convient.

- | | |
|--------------|--------------|
| • 56 > | • 52 < |
| • 51 > | • 57 < |
| • 58 > | • 54 < |



12 Range du plus petit au plus grand.

55 51 59 < <

50 58 52 < <

54 56 59 < <

13 Résoudre des problèmes.

Ali a 58 timbres. Rémi a 53 timbres. Qui a le plus de timbres ?

..... > C'est qui a le plus de timbres.

Léo a 50 livres. Justine a 54 livres. Qui a le moins de livres ?

..... < C'est qui a le moins de livres.

Marie a 47 + 10 feuilles. Lisa a 59 feuilles. Qui a le plus de feuilles ?

47 + 10 =

..... > C'est qui a le plus de feuilles.

Sami a 44 + 10 feuilles. Manon a 51 feuilles. Qui a le moins de feuilles ?

..... + =

..... < C'est qui a le moins de feuilles.



J'ai tout compris !
Comparer, ranger et ordonner
de 30 à 59



1 Entoure les nombres : **le plus petit en rouge** et **le plus grand en vert**.

- 38 41 53
- 32 40 51
- 49 57 36
- 55 30 44

2 Recopie et complète avec le signe $<$ ou $>$.

- 54 36
- 33 49
- 42 51
- 50 47
- 39 34
- 45 38

3 Relie les nombres du plus petit au plus grand.

54

47

38

43

32

55



4 Écris un nombre qui convient.

- 37 >
- 40 >
- 50 >
- 56 <
- 39 <
- 49 <

5 Range du plus grand au plus petit.

32 51 40 > >

50 37 48 > >

49 51 30 > >

6 Relie les nombres du plus grand au plus petit.

46

59

38

52

33

45



7 Range du plus petit au plus grand.

40 39 41 38

< < <

51 50 49 48

< < <

55 39 32 40

< < <

8 Résoudre des problèmes.

Marie a 46 images, Sami 35 images et Léa 52 images. Qui a le plus d'images ?

> >

C'est _____ qui a le plus d'images.

Léo a 32 billes, Ali 51 billes et Manon 40 billes. Qui a le moins de billes ?

< <

C'est _____ qui a le moins de billes.

Comparer, ranger et ordonner de 60 à 69



1 Entoure **le plus petit** des deux nombres.

64 61

60 63

65 68

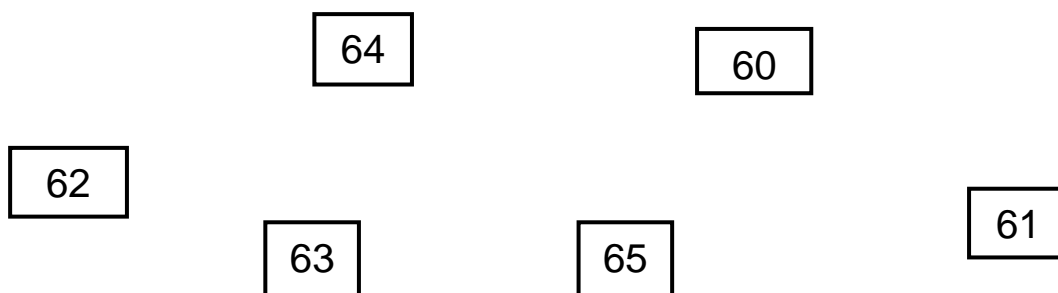
2 Entoure **le plus grand** des deux nombres.

69 67

66 68

62 64

3 Relie les nombres du plus petit au plus grand.



4 Entoure les nombres : **le plus petit en rouge** et **le plus grand en vert**.

• 62 65 61

• 68 69 63

• 64 60 67

• 66 61 64

5 Recopie et complète avec **plus petit** ou **plus grand**.

63 est que 67.

66 est que 69.

68 est que 61.

60 est que 64.



6 Complète avec **plus petit** ou **plus grand** puis avec $<$ ou $>$.

68 est que 66.

68 66

64 est que 63.

64 63

61 est que 65.

61 65

7 Recopie et complète avec le signe $<$ ou $>$.

• 67 66

• 60 62

• 65 63

• 68 69

• 64 61

• 63 66

8 Range du plus petit au plus grand.

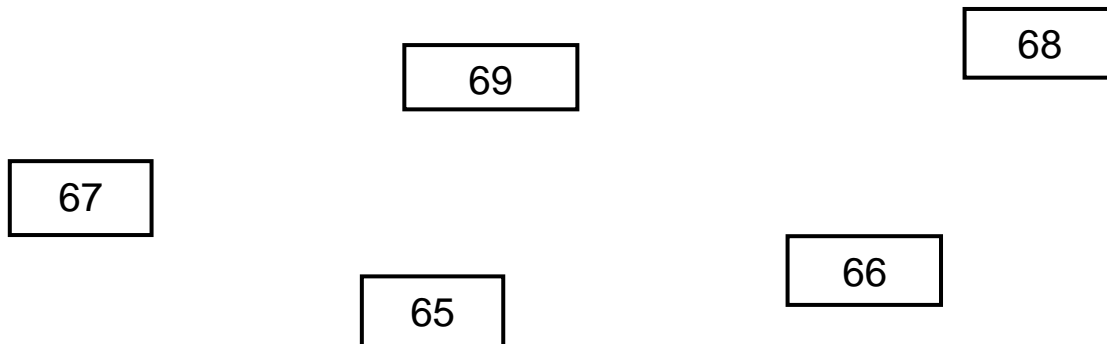
65 60 67 $<$ $<$

69 61 63 $<$ $<$

64 68 62 $<$ $<$



9 Relie les nombres du plus grand au plus petit.



10 Entoure les nombres.

Plus petits que 66 :

65 67 61 69 64 62 68

Plus grands que 64 :

63 60 69 65 66 61 62

11 Range du plus grand au plus petit.

68 69 66 > >

60 65 62 > >

63 62 64 > >



12 Écris un nombre qui convient.

- $68 > \dots\dots$
- $62 > \dots\dots$
- $65 > \dots\dots$
- $67 < \dots\dots$
- $61 < \dots\dots$
- $64 < \dots\dots$

13 Résoudre des problèmes.

Qui a la plus de billes ? Tom ou Léa ?

Tom a 62 billes.

Léa a 64 billes.

$\dots\dots > \dots\dots$ C'est $\dots\dots$ qui a le plus de billes.

Qui a la moins de billes ? Calcule les billes de Tom et de Léa.

Tom a 61 billes. Il en gagne 5.

Léa a 57 billes. Elle en gagne 10.

$$61 + 5 = \dots\dots\dots$$

$$57 + 10 = \dots\dots\dots$$

$\dots\dots > \dots\dots$ C'est $\dots\dots$ qui a le plus de billes.



Comparer, ranger et ordonner de 70 à 79



1 Entoure **le plus petit** des deux nombres.

71 73

78 75

74 79

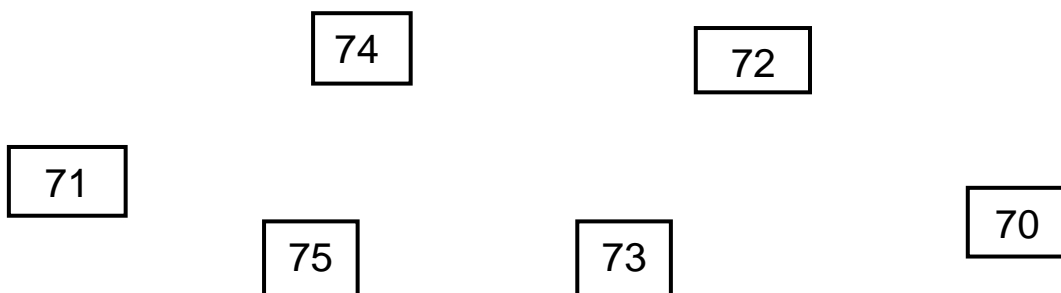
2 Entoure **le plus grand** des deux nombres.

77 70

73 72

76 78

3 Relie les nombres du plus grand au plus petit.



4 Entoure les nombres : **le plus petit en rouge** et **le plus grand en vert**.

• 79 74 75

• 72 70 78

• 71 77 73

• 74 76 79

5 Recopie et complète avec **plus petit** ou **plus grand**.

73 est que 70.

74 est que 75.

77 est que 72.

71 est que 76.



6 Complète avec **plus petit** ou **plus grand** puis avec $<$ ou $>$.

72 est que 70.

72 70

78 est que 77.

78 77

74 est que 71.

74 71

7 Recopie et complète avec le signe $<$ ou $>$.

• 75 70

• 70 74

• 71 72

• 79 73

• 78 76

• 73 77

8 Range du plus grand au plus petit.

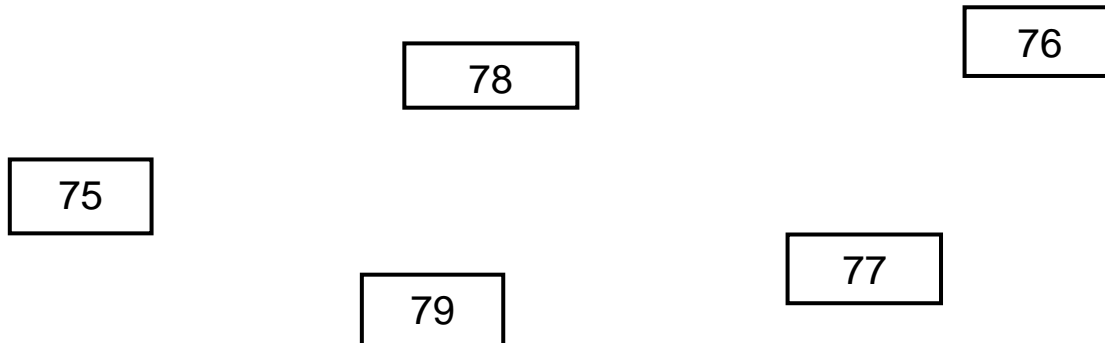
77 75 78 $>$ $>$

71 74 76 $>$ $>$

72 79 73 $>$ $>$



9 Relie les nombres du plus petit au plus grand.



10 Entoure les nombres.

Plus petits que 73 :

70 79 72 74 76 71 75

Plus grands que 75 :

77 79 74 70 72 71 76

11 Range du plus petit au plus grand.

79 71 76 > >

72 74 77 > >

73 78 70 > >



12 Écris un nombre qui convient.

- 72 >
- 76 <
- 77 >
- 78 <
- 75 >
- 73 <

13 Résoudre des problèmes.

Qui est le plus âgé ? Léon ou Denis ?

Léon a 76 ans et Denis a 78 ans.

..... > C'est qui est le plus âgé.

Qui a le moins d'oranges ? Calcule puis réponds à la question.

Léon a 15 oranges. Il en achète 60.

Denis a 72 oranges. Il en achète 2.

..... + =

Léon a oranges.

..... + =

Denis a oranges.

..... > C'est qui a le moins d'oranges.



Comparer, ranger et ordonner de 80 à 89



1 Entoure **le plus petit** des deux nombres.

82 81

85 88

83 80

2 Entoure **le plus grand** des deux nombres.

89 84

86 87

82 85

3 Entoure le nombre **le plus petit en rouge** et **le plus grand en vert**.

• 82 86 80

• 81 83 85

• 87 84 89

• 88 86 82

4 Relie les nombres du plus petit au plus grand.

89

86

84

85

88

87

5 Recopie et complète avec **plus petit** ou **plus grand**.

81 est que 83.

85 est que 80.

89 est que 84.

86 est que 88.



6 Complète avec **plus petit** ou **plus grand** puis avec **<** ou **>**.

85 est que 80.

85 80

84 est que 86.

84 86

87 est que 84.

87 84

7 Entoure les nombres.

Plus petits que 83 :

84 85 80 86 82 81

Plus grands que 86 :

88 89 85 80 87 84

8 Recopie et complète avec le signe **<** ou **>**.

• 88 87

• 81 82

• 86 83

• 80 85

• 84 89

• 89 86



9 Range du plus petit au plus grand.

82 84 81 < <

87 83 84 < <

80 86 85 < <

10 Relie les nombres du plus petit au plus grand.

87

83

85

82

86

84

11 Écris un nombre qui convient.

• 84 >

• 88 <

• 81 >

• 85 <

• 87 >

• 82 <



12 Range du plus grand au plus petit.

82 84 81 < <

87 83 84 < <

80 86 85 < <

13 Résoudre des problèmes.

Camille fête son anniversaire. Elle invite 42 garçons et 45 filles. Combien de personnes invite Camille.

..... + =

Camille a invité personnes.

Camille invite plus ou moins de 85 personnes ?

Complète et dessine le signe < ou > :

85

Léon se trompe ; il met 88 bougies sur le gâteau d'anniversaire de Camille. Il y a 6 bougies en trop. Quel âge à Camille ?

..... - =

Camille a ans.



Comparer, ranger et ordonner de 90 à 99



1 Entoure les nombres : le plus petit en rouge et le plus grand en vert.

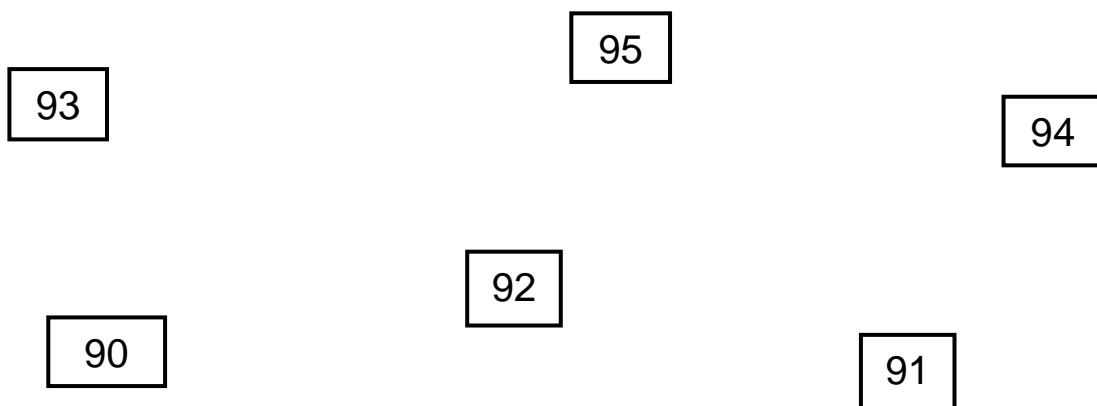
• 93 94 95

• 91 90 92

• 98 99 97

• 96 97 95

2 Relie les nombres du plus petit au plus grand.



3 Recopie et complète avec plus petit ou plus grand.

95 est que 94.

93 est que 96.

97 est que 98.

92 est que 90.

4 Entoure les nombres.

Plus petits que 96 :

94 98 90 97 95 99

Plus grands que 93 :

92 90 91 95 98 96



5 Complète avec **plus petit** ou **plus grand** puis avec **<** ou **>**.

92 est que 91.

92 91

96 est que 93.

96 93

97 est que 99.

97 99

6 Recopie et complète avec le signe **<** ou **>**.

• 93 95

• 97 99

• 98 94

• 96 91

• 90 96

• 92 90

7 Relie les nombres du plus grand au plus petit.

99

94

96

95

97

98



8 Écris un nombre qui convient.

- 93 >
- 98 >
- 95 >
- 96 <
- 94 <
- 92 <

9 Range les nombres. Regarde bien les signes < ou >.

94 97 91 < <

99 93 95 > >

95 92 98 > >

90 94 93 < <

10 Résoudre des problèmes :

Quel château a le plus de fenêtres ?

Le château de l'ogre a 96 fenêtres et le château de la fée en a 94.

..... > C'est le château de qui a le plus de fenêtres.

J'ai 31 poires et 63 pommes. Ai-je plus ou moins de 95 fruits ?

..... + =

J'ai de 95 fruits.

**Comparer, ranger et ordonner : On
révise de 1 à 99**



1 Entoure les nombres : **le plus petit en rouge** et **le plus grand en bleu**.

• 23 45 87 18

• 81 73 50 66

• 13 56 94 70

• 41 79 58 19

2 Recopie et complète avec le signe **<** ou **>**.

• 47 23

• 47 23

• 50 68

• 50 68

• 16 32

• 16 32

• 96 80

• 61 70

• 37 44

• 17 5

• 99 92

• 29 19

3 Recopie les nombres du **plus petit** au **plus grand** :

44 58 31 37

60 57 83 94

16 26 20 18

75 98 94 82



4 Entoure le nombre le **plus grand** :

56 65

98 89

16 61

47 74

83 38

12 21

63 36

35 53

26 62

5 Écris les nombres au bon endroit :

56 - 32

..... <

44 - 48

..... >

60 - 71

..... <

38 - 19

..... >

94 - 83

..... <

67 - 46

..... >

6 Écris les nombres du **plus petit** au **plus grand** :

28 - 16 - 25 - 23 - 11 - 14 - 26

| | | | | | | | | | |
|----|--|--|--|----|--|--|--|--|----|
| 10 | | | | 20 | | | | | 30 |
|----|--|--|--|----|--|--|--|--|----|

62 - 53 - 47 - 75 - 66 - 58 - 70

| | | | | | | | | | |
|----|--|--|--|----|--|--|--|--|----|
| 40 | | | | 60 | | | | | 80 |
|----|--|--|--|----|--|--|--|--|----|



7 Recopie les nombres du **plus grand** au **plus petit** :

17 56 98 42 70

23 28 39 34 13

84 77 80 68 92

8 Complète avec les nombres qui se trouvent avant et après :

• < 35 <

• > 68 >

• < 16 <

• > 90 >

• < 52 <

• > 84 >

• < 49 <

• > 26 >

• < 70 <

• > 69 >

9 Entoure les nombres qui se trouvent entre :

51 et 67

75 53 69 64 41 60 58

80 et 90

84 95 89 99 72 86 91

68 et 75

70 67 79 71 64 69 77



10 Écris un nombre qui convient :

• $26 > \dots > 33$

• $74 < \dots < 80$

• $15 > \dots > 21$

• $23 < \dots < 30$

• $78 > \dots > 85$

• $93 < \dots < 97$

• $60 > \dots > 67$

• $49 < \dots < 56$

11 C'est correct ? Réponds par oui ou par non.

$10 + 12 > 23$

$10 + 34 > 63$

$10 + 19 < 15$

$10 + 48 < 57$

$10 + 25 > 49$

12 Résous les problèmes.

Marie a 61 billes et Léa a 35 billes. **Qui a le plus de billes ?**

$\dots > \dots$

C'est qui a le plus de billes.

Léon a 72 feuilles et Léo a 69 feuilles. **Qui a le moins de feuilles ?**

$\dots < \dots$

C'est qui a le moins de feuilles.



13 Colorie la bonne réponse.

Qui a le plus de dents ?

Le chat a 29 dents et le chien a 42 dents. → ☐ le chat ☐ le chien

Qui a le moins de dents ?

Le crocodile a 75 dents et le cachalot a 51 dents. → ☐ le crocodile ☐ le cachalot

Qui a le moins de dents ?

Le chien a 42 dents et le cachalot a 51 dents. → ☐ le chien ☐ le cachalot

Qui a le plus de dents ?

Le cachalot a 51 dents et le chat a 29 dents. → ☐ le cachalot ☐ le chat



Comparer, ranger et ordonner jusqu'à 199



1 Entoure **le plus petit** des deux nombres.

113 118

149 145

167 177

191 181

2 Entoure **le plus grand** des deux nombres.

197 194

122 126

153 163

178 188

3 Recopie et complète avec le signe **<** ou **>**.

• 166 162

• 184 174

• 199 179

• 151 157

• 160 190

• 146 126

• 139 159

• 114 118

• 150 170

• 115 135

• 190 110

• 148 188

4 Entoure les nombres : **le plus petit en rouge** et **le plus grand en bleu**.

• 177 197 167

• 151 156 153

• 142 149 145

• 153 123 163

• 179 171 170

• 189 199 179



5 Entoure **le plus petit** des deux nombres.

185 191

172 154

199 193

137 168

6 Entoure **le plus grand** des deux nombres.

155 179

142 130

181 163

196 128

7 Complète avec le nombre avant et après :

• < 143 <

• < 185 <

• < 179 <

• < 110 <

• > 190 >

• > 124 >

• > 161 >

• > 139 >

8 Écris les nombres au bon endroit :

143 et 152 <

154 et 192 >

176 et 191 <

195 et 137 >

165 et 129 <

140 et 180 >



9 Écris les nombres du **plus petit** au **plus grand** :

112 – 143 – 140 – 137 – 109 – 121 – 139

| | | | | | | | | | |
|-----|--|--|--|-----|--|--|--|--|-----|
| 100 | | | | 130 | | | | | 150 |
|-----|--|--|--|-----|--|--|--|--|-----|

189 – 180 – 165 – 171 – 179 – 168 – 162

| | | | | | | | | | |
|-----|--|--|--|-----|--|--|--|--|-----|
| 160 | | | | 170 | | | | | 190 |
|-----|--|--|--|-----|--|--|--|--|-----|

10 Recopie ces nombres du **plus grand** au **plus petit** :

134 – 111 – 129 – 117 – 145

143 – 157 – 152 – 140 – 167

185 – 169 – 199 – 170 – 197

11 Entoure les nombres qui se trouvent entre :

164 et 171

170 – 142 – 160 – 168 – 167 – 173

175 et 185

176 – 184 – 189 – 172 – 179 – 180

189 et 196

187 – 199 – 190 – 195 – 191 – 188



12 Écris un nombre qui convient :

- 147 < < 151
- 108 > > 114
- 195 < < 199
- 184 > > 190
- 178 < < 184
- 152 > > 158
- 163 < < 167
- 169 > > 175
- 119 < < 126
- 133 > > 141

13 Vrai ou faux ? Souligne la bonne réponse.

$$100 + 45 > 155$$

vrai – faux

$$100 + 62 > 160$$

vrai – faux

$$100 + 70 < 171$$

vrai – faux

$$100 + 81 < 178$$

vrai – faux

$$100 + 98 > 199$$

vrai – faux

14 Résoudre des problèmes.

Lisa a 142 cartes et Victor en a 167. **Qui a le plus de cartes ?**

..... > C'est qui a le plus de cartes.

Camille a 198 pommes et Léo en a 194. **Qui a le moins de pommes ?**

..... < C'est qui a le moins de pommes.



15 Qui a le plus de sucre ? Colorie la bonne réponse.

La confiture de fraises a 134 grammes de sucre, la confiture d'abricots a 113 grammes de sucre. →

La confiture de poires a 148 grammes de sucre, la confiture de groseilles a 182 grammes de sucre. →

16 Qui a le moins de sucre ? Colorie la bonne réponse.

La confiture de poires a 148 grammes de sucre, la confiture de fraises a 134 grammes de sucre. →

La confiture de groseilles a 182 grammes de sucre, la confiture de d'abricots a 113 grammes de sucre. →

17 Complète avec le signe = (égal) ou le signe \neq (différent).

- 1c 5d 8u 158
- 1c 6d 1u 16d 1u
- 1c 9u 129
- 183 1c 8d 3u
- 1c 7d 1c 4d
- 150 1c 4d
- 1c 19u 115
- 179 17d 9u



18 Vrai ou faux ? Écris la bonne réponse. (Rappelle-toi : le signe \neq signifie différent)

- $1c\ 7d\ 1u \neq 171 \rightarrow \dots\dots\dots$
- $1c\ 5u = 115 \rightarrow \dots\dots\dots$
- $1c\ 62u = 1c\ 6d\ 2u \rightarrow \dots\dots\dots$
- $1c\ 43u \neq 134 \rightarrow \dots\dots\dots$
- $1c\ 9d\ 7u = 19d\ 7u \rightarrow \dots\dots\dots$
- $189 \neq 1c\ 8d\ 9u \rightarrow \dots\dots\dots$
- $117 \neq 1c\ 7d\ 1u \rightarrow \dots\dots\dots$
- $198 = 18d\ 9u \rightarrow \dots\dots\dots$



**Comparer, ranger et ordonner
jusqu'à 599**



1 Entoure les nombres : **le plus petit en rouge** et **le plus grand en bleu**.

• 350 250 550 450

• 227 527 127 327

• 478 278 178 378

2 Recopie et complète avec le signe **<** ou **>**.

• 360 370

• 504 304

• 276 274

• 386 388

• 403 303

• 170 570

• 550 580

• 595 565

• 199 299

• 324 224

• 461 261

• 101 111

3 Complète avec les nombres qui sont avant et après :

• **>** 356 **>**

• **<** 381 **<**

• **>** 213 **>**

• **<** 499 **<**

• **>** 489 **>**

• **<** 208 **<**

• **>** 140 **>**

• **<** 350 **<**

• **>** 574 **>**

• **<** 568 **<**



4 Entoure le **plus petit** des trois nombres.

492 294 249

319 193 391

520 502 250

347 437 374

5 Entoure le **plus grand** des trois nombres.

153 351 513

492 429 294

235 532 352

415 145 541

6 Écris les nombres du **plus petit** au **plus grand** :

375 – 245 – 258 – 117 – 340 – 229

| | | | | | | | | |
|-----|--|--|--|-----|--|--|--|-----|
| 100 | | | | 250 | | | | 380 |
|-----|--|--|--|-----|--|--|--|-----|

452 – 330 – 584 – 476 – 502 – 391

| | | | | | | | | |
|-----|--|--|--|-----|--|--|--|-----|
| 300 | | | | 460 | | | | 590 |
|-----|--|--|--|-----|--|--|--|-----|

7 Écris les nombres au bon endroit :

413 et 246 >

513 et 485 <

358 et 574 <

240 et 168 >

199 et 307 >

329 et 499 <



8 Complète avec le signe = (égal) ou le signe \neq (différent).

- 2c 7d 3u 273
- 599 5c 9d 9u
- 5c 8d 4u 484
- 260 2c 60u
- 3c 9d 1u 319
- 426 2c 4d 6u
- 4c 47u 447
- 353 3c 35u

9 Complète avec le signe = (égal) ou le signe \neq (différent).

- 300 + 35 435
- 200 + 100 400
- 50 + 200 250
- 94 + 200 249
- 400 + 8 480
- 300 + 64 364
- 500 + 80 580
- 72 + 500 572



10 Entoure les nombres : le plus petit en rouge et le plus grand en vert.

- 289 506 347 490
- 438 147 573 201
- 572 440 259 308

11 Encadre les nombres à la dizaine :

- **380** < 385 < **390**
- < 267 <
- < 431 <
- < 504 <
- < 519 <
- < 356 <

12 Encadre les nombres à la centaine:

- **300** < 385 < **400**
- < 349 <
- < 406 <
- < 476 <
- < 281 <
- < 238 <

13 Recopie et complète avec le signe < ou >.

- 420 354
- 555 499
- 198 276
- 201 120
- 563 549
- 536 356
- 257 431
- 408 480
- 380 520
- 328 382



14 Entoure les nombres qui se trouvent entre :

476 et 489

467 – 488 – 480 – 490 – 479 – 482

260 et 370

310 – 250 – 360 – 290 – 330 – 390

484 et 584

384 – 264 – 494 – 504 – 434 – 544

15 Recopie les nombres du plus petit au plus grand :

387 – 426 – 318 – 279 – 501

543 – 371 – 217 – 281 – 562

406 – 550 – 583 – 342 – 499

16 Recopie les nombres du plus grand au plus petit :

145 – 539 – 207 – 478 – 362

330 – 514 – 361 – 409 – 425

252 – 225 – 471 – 315 – 296



17 Résous le problème :

Léa a ramassé 264 coquillages. Marie en a ramassé 3 centaines et 5 dizaines. Damien a ramassé $200 + 147$ coquillages.

Qui a le plus de coquillages et qui a le moins de coquillages ?

18 Marie s'est trompée. Recopie les nombres en corrigeant les erreurs.

Dans l'ordre croissant : $258 < 278 < 234 < 207$

Dans l'ordre décroissant : $492 > 521 > 168 > 240$

Dans l'ordre croissant : $163 < 570 < 467 < 404$

Dans l'ordre décroissant : $279 > 345 > 352 > 183$

19 Complète avec le signe $=$ (égal) ou le signe \neq (différent).

- $410 + 58 \dots\dots 458$
- $300 + 80 + 7 \dots\dots 387$
- $5c\ 2d\ 4u \dots\dots 524$
- $9 + 30 + 500 \dots\dots 359$
- $300 + 100 + 4 \dots\dots 404$
- $247 \dots\dots 4c\ 2d\ 7u$
- $252 \dots\dots 100 + 100 + 25$
- $160 + 300 \dots\dots 260 + 200$

20 Complète ces suites avec des nombres qui conviennent.

- $283 < \dots\dots < 299 < \dots\dots < 317$
- $492 < \dots\dots < 503 < \dots\dots < 520$
- $599 > \dots\dots > 588 > \dots\dots > 577$
- $415 > \dots\dots > 400 > \dots\dots > 385$



21 Résous les problèmes.

Le docteur Léon a effectué 367 piqûres, 492 bandages et 234 opérations.
Classes ces nombre du plus grand au plus petit.

Dans la bijouterie de Monsieur Diamant, il y a 150 colliers, 100 bagues et 30 bracelets. Y-a-t-il plus ou moins de 300 bijoux ?

Le tableau de Picasso coûte 457 €. Léo a 231 € et Marie a 235 €. Est-ce que Léo et Marie peuvent acheter ce tableau ?



**Comparer, ranger et ordonner
jusqu'à 999**



1 Entoure les nombres : le plus petit en rouge et le plus grand en bleu.

• 480 680 980 280

• 247 647 147 447

• 575 975 375 875

• 912 612 712 812

2 Complète avec le nombre avant et après :

• > 582 >

• < 930 <

• > 620 >

• < 653 <

• > 744 >

• < 571 <

• > 859 >

• < 837 <

• > 907 >

• < 779 <

3 Répond à cette question :

Au zoo, il y a 7 centaines et 5 dizaines de reptiles. Léa dit qu'il y a moins de 500 reptiles en tout. Es-tu d'accord ?

☐ OUI ☐ NON

Pourquoi ?



4 Complète avec le signe = ou le signe \neq .

- 861 8c 9d 1u
- 9c 5d 590
- 7d 2u 702
- 874 8c 74u
- 620 6c 2d
- 593 5c 9d 3u
- $200 + 70 + 5$ 2c 7d
- 8c 4d 814

5 Entoure le plus petit des trois nombres.

668 743 829

873 947 617

705 455 860

980 519 365

6 Entoure le plus grand des trois nombres.

653 724 866

567 912 610

631 387 730

482 852 799

7 Complète avec le signe $>$ ou $<$:

- 870 950
- 456 674
- 735 515
- 892 829
- 482 243
- 806 716
- 945 820
- 538 691
- 689 784
- 999 959



8 Encadre les nombres à la dizaine :

- **570** < 583 < **590**
- < 893 <
- < 748 <
- < 672 <
- < 490 <
- < 579 <

9 Encadre les nombres à la centaine:

- **500** < 580 < **600**
- < 889 <
- < 988 <
- < 634 <
- < 756 <
- < 322 <

10 Tom s'est trompé. Recopie les suites de nombres en corrigeant les erreurs.

Dans l'ordre croissant : 418 < 679 < 825 < 731

Dans l'ordre décroissant : 808 > 637 > 340 > 907

Dans l'ordre croissant : 949 < 861 < 957 < 824

Dans l'ordre décroissant : 764 > 803 > 966 > 730

11 Écris les nombres du plus petit au plus grand.

792 – 941 – 607 – 745 – 819 – 980 – 561 – 863

| | | | | | | | | | | |
|-----|--|--|--|-----|--|--|--|-----|--|--|
| 540 | | | | 760 | | | | 875 | | |
|-----|--|--|--|-----|--|--|--|-----|--|--|



12 Recopie les nombres du plus petit au plus grand :

780 – 523 – 937 – 826 – 984

406 – 854 – 706 – 764 – 900

968 – 118 – 648 – 378 – 758

13 Recopie les nombres du plus grand au plus petit :

663 – 714 – 991 – 845 – 533

900 – 860 – 942 – 883 – 711

558 – 143 – 907 – 649 – 827

14 Compare les nombres :

879 et 789 >

651 et 561 <

783 et 837 >

591 et 951 <

863 et 683 >



15 Complète avec le signe $=$ ou le signe \neq .

- $600 + 110 \dots\dots 610$
- $200 + 120 + 300 \dots\dots 720$
- $750 + 150 \dots\dots 900$
- $500 + 209 + 50 \dots\dots 759$
- $647 + 200 \dots\dots 847$
- $600 + 70 + 30 \dots\dots 800$
- $510 + 470 \dots\dots 880$
- $700 + 230 + 8 \dots\dots 938$

16 Résous le problème :

Léa a 684 coquillages. Marie a 846 coquillages. Damien a 468 coquillages.

Qui a le plus de coquillages et qui en a le moins ?

Quatre amis participent à un marathon, Tom arrive 318^{ème}, Marie 622^{ème}, Léa 249^{ème} et Hector 754^{ème}. **Qui est arrivé le premier et qui est arrivé le dernier ?**

17 Complète avec le signe $<$, $>$ ou $=$.

- $800 + 150 \dots\dots 750$
- $760 \dots\dots 160 + 300 + 300$
- $200 + 350 + 100 \dots\dots 650$
- $160 + 300 \dots\dots 260 + 200$
- $900 \dots\dots 400 + 400$
- $545 + 100 \dots\dots 600 + 50$
- $600 + 70 + 200 \dots\dots 400 + 470$
- $800 + 70 + 30 \dots\dots 910$



18 Complète avec le signe $<$, $>$ ou $=$

- $900 - 200 \dots\dots\dots 600$
- $850 \dots\dots\dots 900 - 150$
- $500 \dots\dots\dots 800 - 200$
- $600 - 150 \dots\dots\dots 500 - 50$

19 Complète ces suites avec des nombres qui conviennent.

- $616 < \dots\dots\dots < 684 < \dots\dots < 728$
- $759 < \dots\dots\dots < 805 < \dots\dots < 837$
- $869 > \dots\dots\dots > 899 > \dots\dots > 909$
- $930 > \dots\dots\dots > 952 > \dots\dots > 968$

**Comparer, ranger et ordonner
de 1000 à 9999**



1 Entoure les nombres : le plus petit en rouge et le plus grand en bleu.

• 7 561 4 961 1 028 3 485

• 5 580 6 012 9 437 8 804

• 3 033 9 056 4 125 8 337

• 1 770 2 811 8 000 9 819

2 Complète avec le nombre avant et après :

• > 2 083 >

• < 5 290 <

• > 4 868 >

• < 3 499 <

• > 1 901 >

• < 7 879 <

• > 7 385 >

• < 1 999 <

• > 9 539 >

• < 8 799 <

3 Range les nombres dans l'ordre croissant.

9 716 3 451 5 365 5 006 9 365

4 Range les nombres dans l'ordre décroissant.

3 318 6 099 2 912 8 384 6 755



5 Complète avec le signe qui convient :

- 5 547 5 124
- 6 092 6 420
- 3 854 1 256
- 1 770 1 829
- 7 862 6 514
- 9 010 9 101
- 9 839 9 939
- 7 461 8 044

6 Encadre les nombres à la dizaine :

- < 8 415 <
- < 3 570 <
- < 5 027 <
- < 9 881 <
- < 6 234 <
- < 8 779 <

7 Encadre les nombres à la centaine :

- < 7 580 <
- < 5 589 <
- < 1 945 <
- < 4 810 <
- < 6 008 <
- < 8 366 <

8 Compare les nombres :

- | | |
|------------------------------|------------------------------|
| 2 547 et 5 247 > | 8 751 et 7 851 < |
| 6 817 et 4 814 < | 3 039 et 3 093 > |
| 5 390 et 9 530 > | 9 268 et 8 269 > |



9 Compare les nombres :

| | |
|------------------------------|------------------------------|
| 1 006 et 1 060 > | 6 078 et 6 087 < |
| 9 507 et 9 057 < | 5 209 et 5 902 > |
| 3 370 et 3 730 > | 2 701 et 2 107 > |

10 Écris les nombres dans l'ordre croissant.

5 199 – 6 750 – 7 580 – 5 923 – 7 850

11 Écris les nombres dans l'ordre décroissant.

3 505 – 1 999 – 6 420 – 8 808 – 4 001

12 Complète avec le signe < , > ou =.

- 2 000 + 600 + 70 2 670
- 4 000 + 1 000 + 900 6 900
- 7m 8c 3d 7 803
- 9 960 9m 9c 6d 2u
- 5 060 3 000 + 1 000 + 1 060
- 7 x 1 000 7 000
- 8 x 1 400 8 200



13 Tom s'est trompé. Recopie les suites de nombres en corrigeant les erreurs.

Dans l'ordre croissant : $6\,513 < 1\,065 < 4\,367 < 4\,789$

Dans l'ordre décroissant : $5\,562 > 9\,478 > 9\,147 > 7\,003$

Dans l'ordre croissant : $8\,146 < 1\,864 < 6\,418 < 4\,681$

Dans l'ordre décroissant : $9\,477 > 1\,811 > 1\,009 > 9\,728$

14 Complète avec le signe $<$, $>$ ou $=$.

- $(5 \times 1\,000) + 40 \dots\dots\dots 5\,400$
- $(9 \times 1\,000) + (3 \times 10) \dots\dots\dots (9 \times 1\,000) + (3 \times 100)$
- $8\,450 \dots\dots\dots (8 \times 1\,000) + (5 \times 100) + 40$
- $6\,744 \dots\dots (6 \times 1\,000) + (7 \times 100) + 44$

15 Résous le problème :

Classe les scores dans l'ordre décroissant. Martin a 8 025, Léa 9 140, Vincent 7 423 et Marie 9 661.

Manon a 6 albums de 1 000 timbres et 78 pochettes de 10 timbres. A-t-elle plus ou moins de 6 700 timbres ?

Nicolas a 56 billets de 100 € et 9 billets de 10 €. Léa a 81 billets de 100 € et 3 billets de 10 €. Qui a le plus d'argent ?



**Comparer, ranger et ordonner
de 1 à 9 999**



1 Entoure les nombres : le plus petit en rouge et le plus grand en bleu.

- 548 13 1 475 670
- 6 089 347 1 622 817
- 95 603 467 49
- 4 628 8 704 699 3 071

2 Complète avec le nombre avant et après :

- > 1 899 >
- > 678 >
- > 34 >
- > 7 061 >
- > 929 >
- < 6 009 <
- < 75 <
- < 2 100 <
- < 8 099 <
- < 459 <

3 Range les nombres dans l'ordre croissant.

552 1 347 97 6 300 761

7 455 2 099 467 8 026 898

4 Range les nombres dans l'ordre décroissant.

406 8 129 367 2 278 560

9 044 1 788 633 811 4 022



5 Complète avec le signe qui convient :

- 2 871 2 574
- 46 102
- 990 1 003
- 4 563 2 642
- 7 887 3 020
- 95 56
- 617..... 419
- 8 750 8 507

6 Encadre les nombres à la centaine :

- < 643 <
- < 1 019 <
- < 3 682 <
- < 758 <
- < 6 970 <
- < 321 <

7 Complète ces suites avec des nombres qui conviennent.

- 1 097 < < 1 104 < < 1 119
- 5 375 > > 5 399 > > 5 420
- 9 900 > > 9 911 > > 9 939

8 Complète avec le signe < , > ou =.

$$1\,000 + 200 + 90 \dots\dots\dots 920$$

$$8\,200 \dots\dots\dots 4\,100 + 4\,100$$

$$1\,200 + 500 + 30 \dots\dots\dots 1\,730$$

$$5\,000 + 50 + 3 \dots\dots 5\,053$$



9 Complète avec le signe $<$, $>$ ou $=$.

8 321 $(8 \times 1\,000) + (2 \times 100) + 31$

4 708 $4\,000 + 800 + 7$

679 $500 + 100 + 9$

$(4 \times 100) + (5 \times 10) + 8$ 548